



Castell d'Alaquàs

Hola amics i amigues!
Sabeu qui sóc?
Sóc Postúmia i els meus
avantpassats i jo hem
viscut al Castell des de
fa molts segles.

El que més m'agrada és
jugar al mocadoret, al
sambori, a la gallineta
cega i a moros i cristians,
però sobretot m'agrada
col·leccionar cucs de
seda. Voleu conèixer el
meu Castell?



Contesta a les següents preguntes:

1. Qui va conquerir València en l'any 1238?

2. Què és una alqueria?


3. Qui va ser la primera família noble que vivia a Alaquàs?

4. Qui manà construir el Castell d'Alaquàs?

5. En quin segle?

6. Amb quina ciutat italiana s'ha agermanat Alaquàs?

7. Quins vincles històrics ens uneixen amb aquesta ciutat?



Contesta a les següents preguntes:

Partint dels dibuixos de la pàgina següent, creus que ets capaç d'identificar les coses que et proposem? Intenta-ho.

1. Assenjala els punts cardinals (N,S,E,O) i els carrers o places amb les quals confronten.

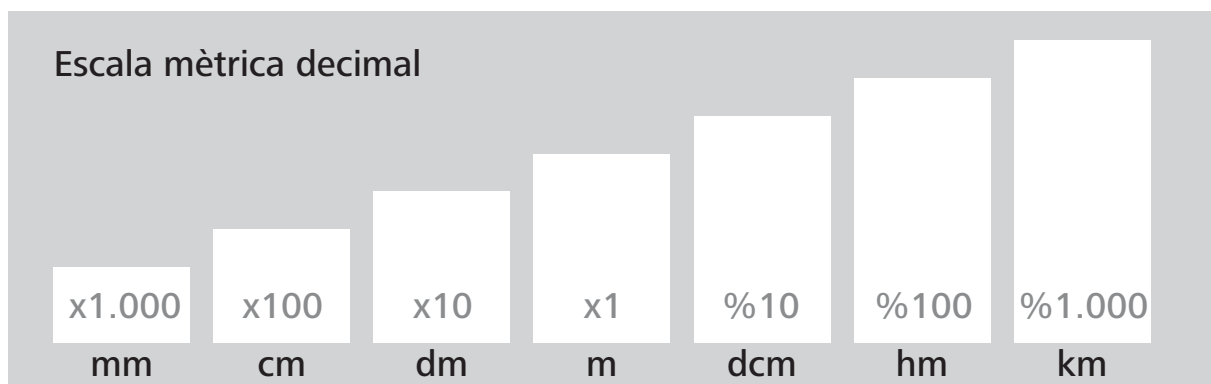
2. Recorre el perímetre del Castell i mesura les seues dimensions.

Façana nord: _____ passos _____ cm _____ m

Façana sud: _____ passos _____ cm _____ m


Façana est: _____ passos _____ cm _____ m

Façana oest: _____ passos _____ cm _____ m



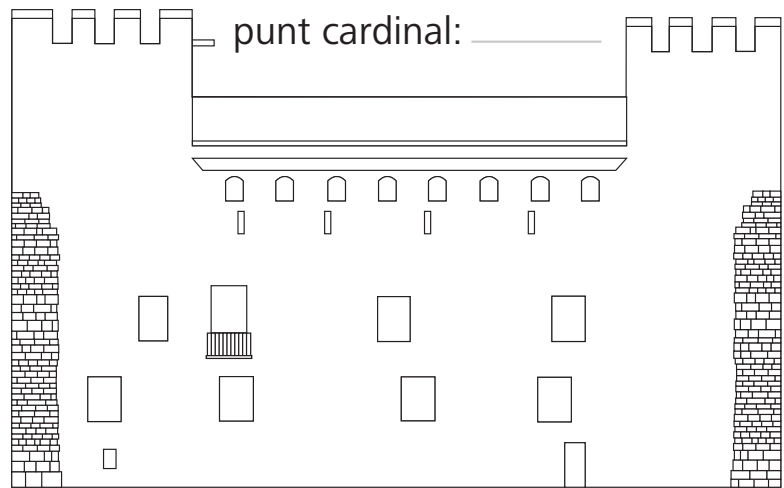
Fitxa de façanes. Observa i anota:

1. Identifica en quina façana et trobes i conta el nombre de finestres que hi ha.



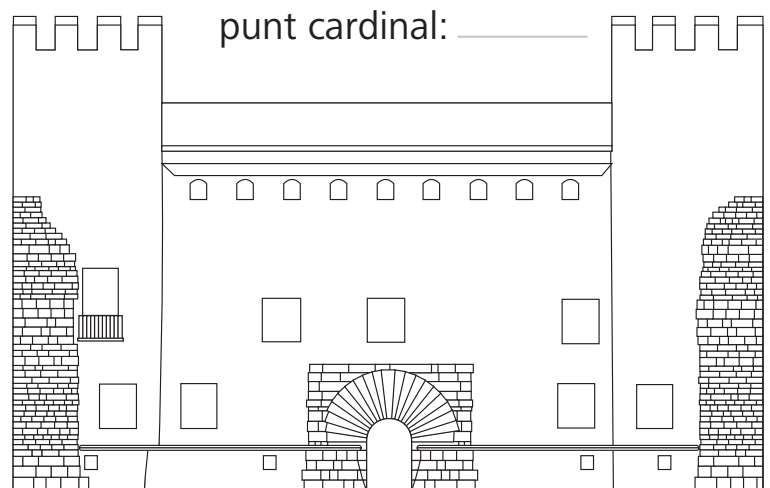
Façana de la plaça:

Finestres:



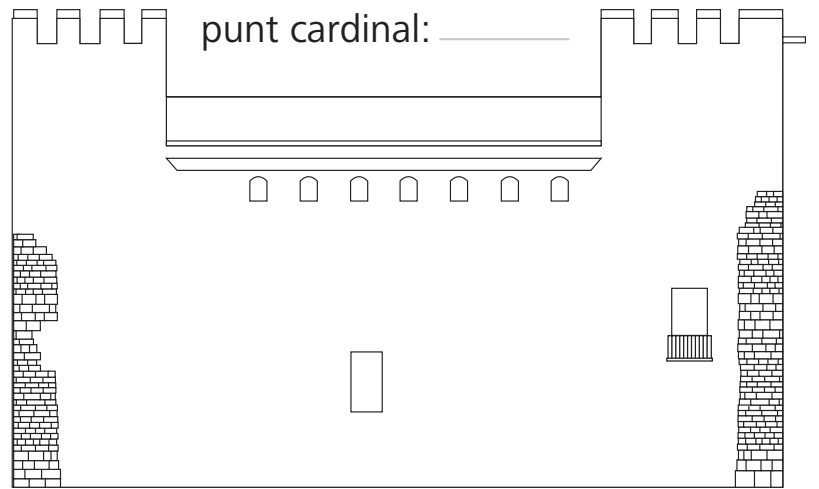
Façana del carrer:

Finestres:



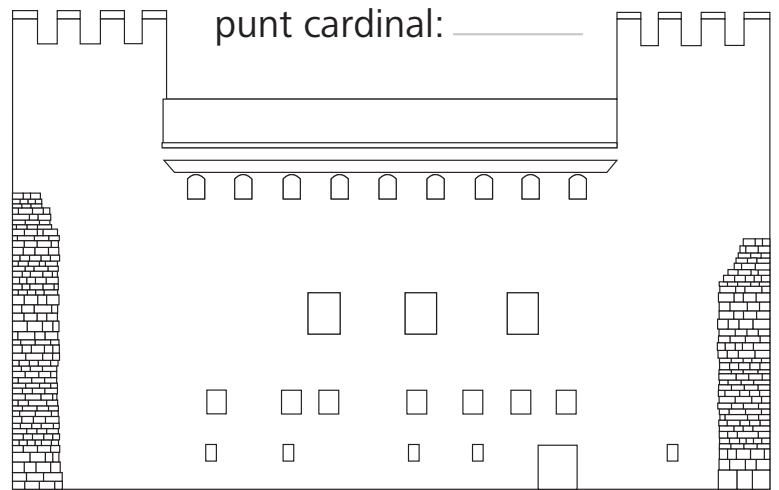
Façana de la plaça:

Finestres:



Façana de la plaça:

Finestres:



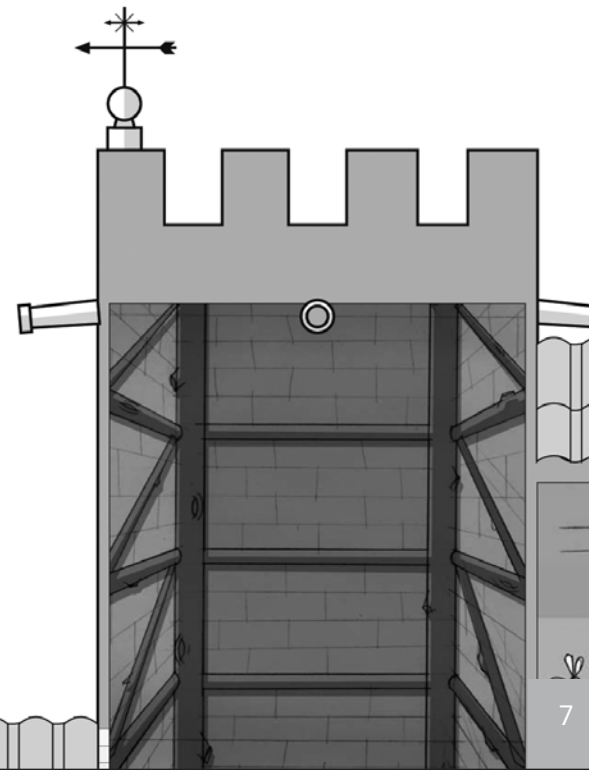
Contesta a les següents preguntes:

1. Quantes torres té el Castell? I abans de la restauració? Per què?

2. Quina funció tenen les gàrgoles cilíndriques?

3. Què hi ha damunt dels merlets?

4. Fixa't en la comunicació que hi ha entre el Castell i l'església de l'Assumpció. Amb quin motiu penses que es va fer?



Sabies que...

...els punts cardinals des d'on bufa el vent tenen diferents noms?

Si bufa del nord Tramuntana
Si bufa del sud Migjorn
Si bufa de l'est Llevant
Si bufa de l'oest Ponent



Mira el mapa d'Espanya i respon:

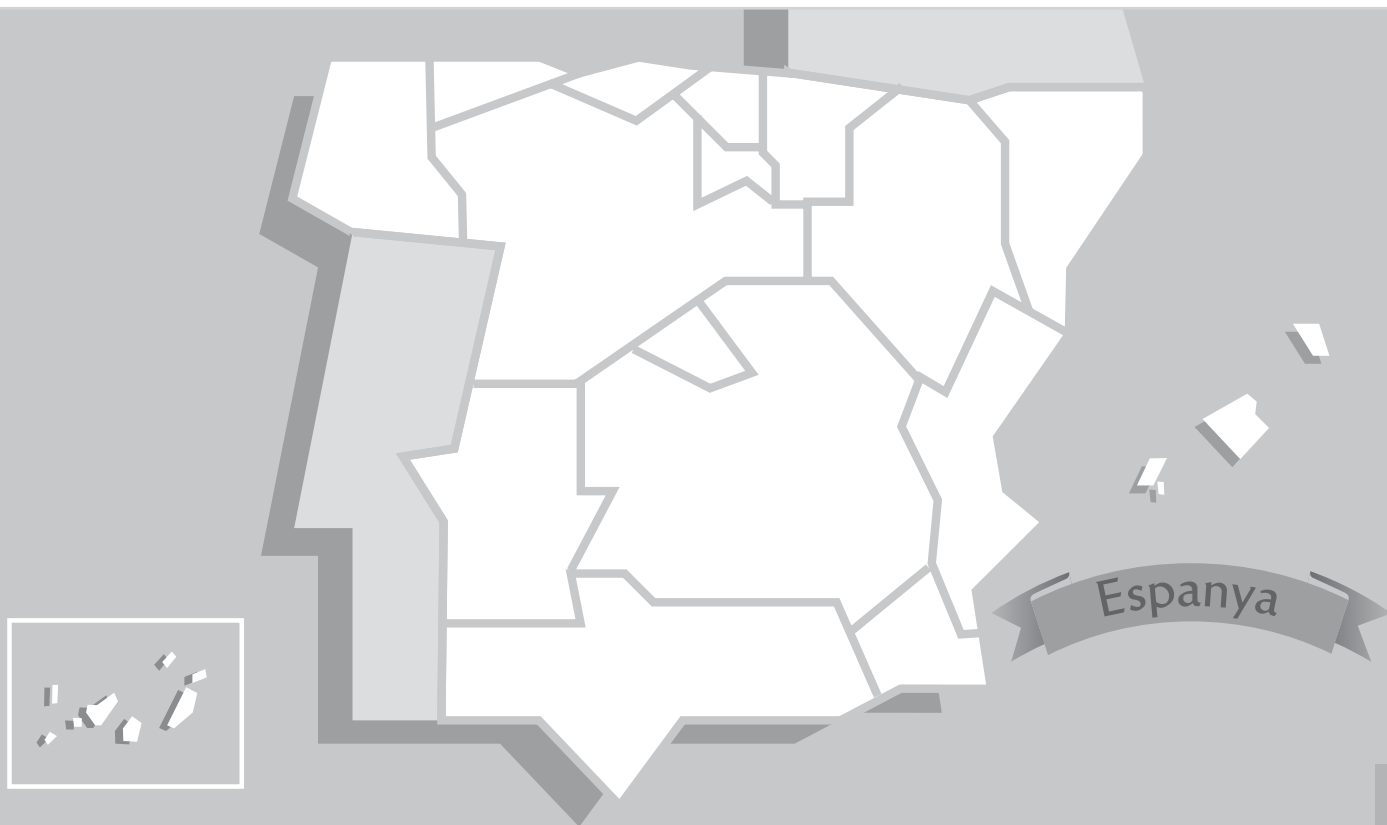
En quin punt cardinal estan situades aquestes ciutats?


València: _____

Galícia: _____

Andalusia: _____

Com que ja sabem on està situada València, et sembla que tenia una ubicació important en aquella època?





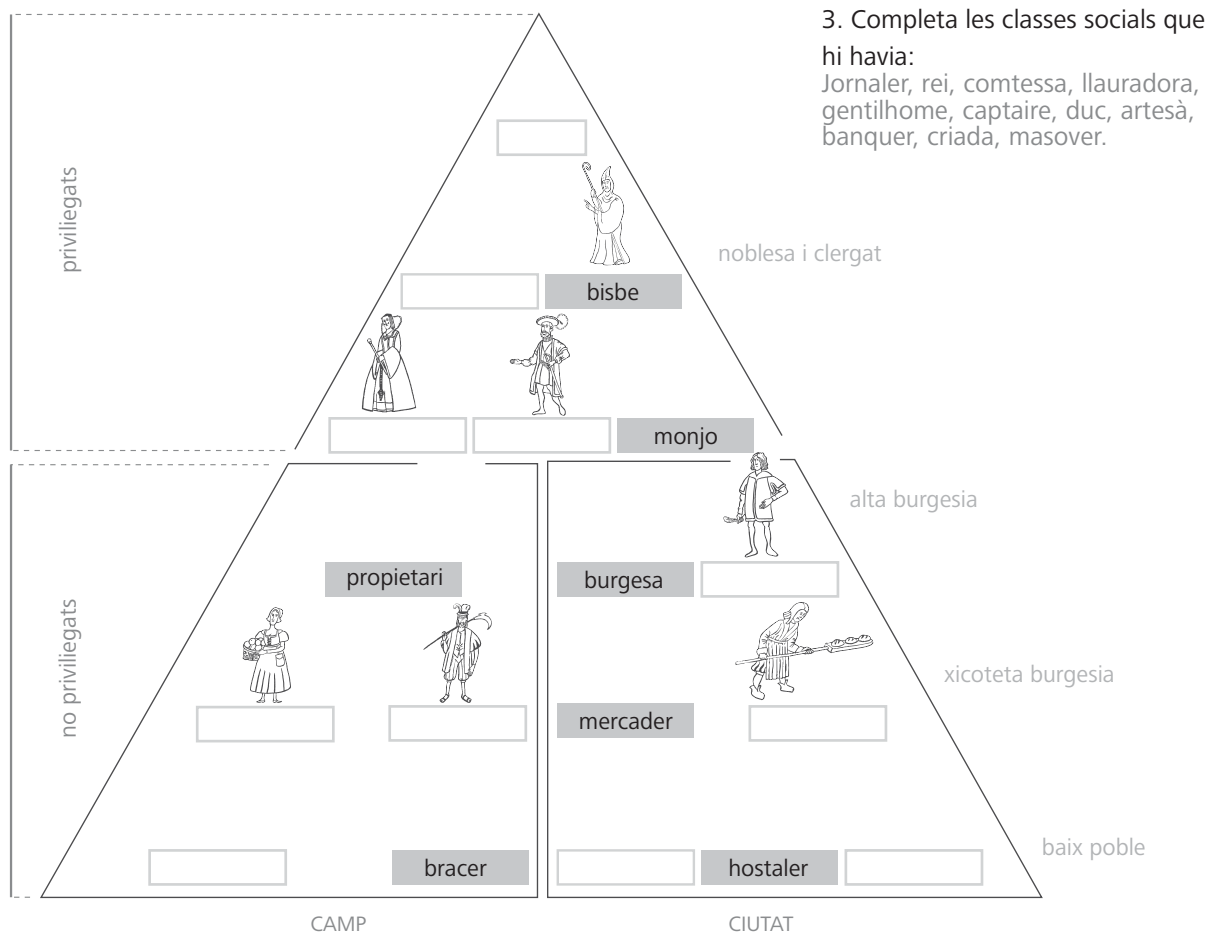
T'ha agradat
el Castell per
fora?
Vols
descobrir-lo
per dins?

Jo ja m'he
posat la roba
de palau.

Observa i respon:

1. Ordena les classes socials segons tinguen major poder social i econòmic (de major a menor)

2. Els propietaris del Castell d'Alaquàs, a quina classe social creus que pertanyien?




Contesta a les següents preguntes:

1. Quina funció pot tindre el claustre?

2. Quines són les dependències més importants que donen al claustre?

3. Quin tipus de planta arquitectònica té el claustre?

4. Observa els arcs que envolten el claustre i descriu-los.



Contesta a les següents preguntes:


1. Has vist alguna pintura en els murs del Castell? Què són?

2. Per què creus que les dibuixaven?

3. Saps a quina època pertanyen?

4. Completa els espais en blanc amb els noms que li pertanyen:

Cofa, trinquet, proa, àncora, coberta, popa, timó, vela.



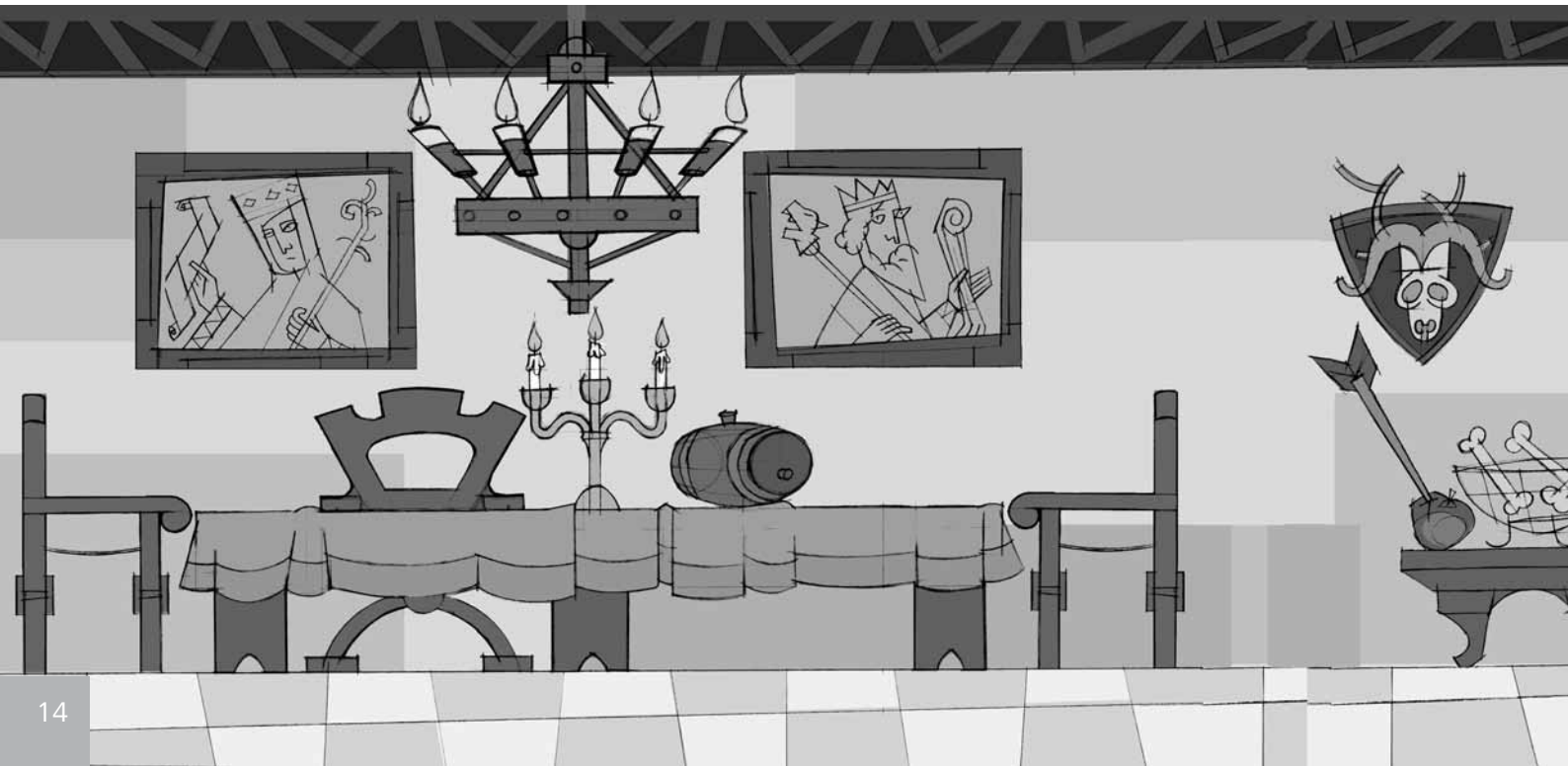
Contesta a les següents preguntes:

1. Quin tipus d'activitat es realitzava en aquesta sala?

2. Quina és la seua altura?

3. Quin tipus de material s'ha utilitzat per a construir el sostre?

4. De què està fet el sòl? Apareix algun dibuix? De quin segle creus que és?




Contesta a les següents preguntes:

1. On dóna l'oratori?

2. Per a què servia?

3. Per què creus que només els nobles tenien accés a l'oratori?



Contesta a les següents preguntes:

1. Quina funció creus que tenia el fumental?

2. Quin tipus d'enteixinat (ornament del sostre amb motlures) hi ha?

3. Quin tipus de ceràmica hi ha al sòl?

4. A quina classe social pertanyien els que treballen en aquesta estança?





Encreuat

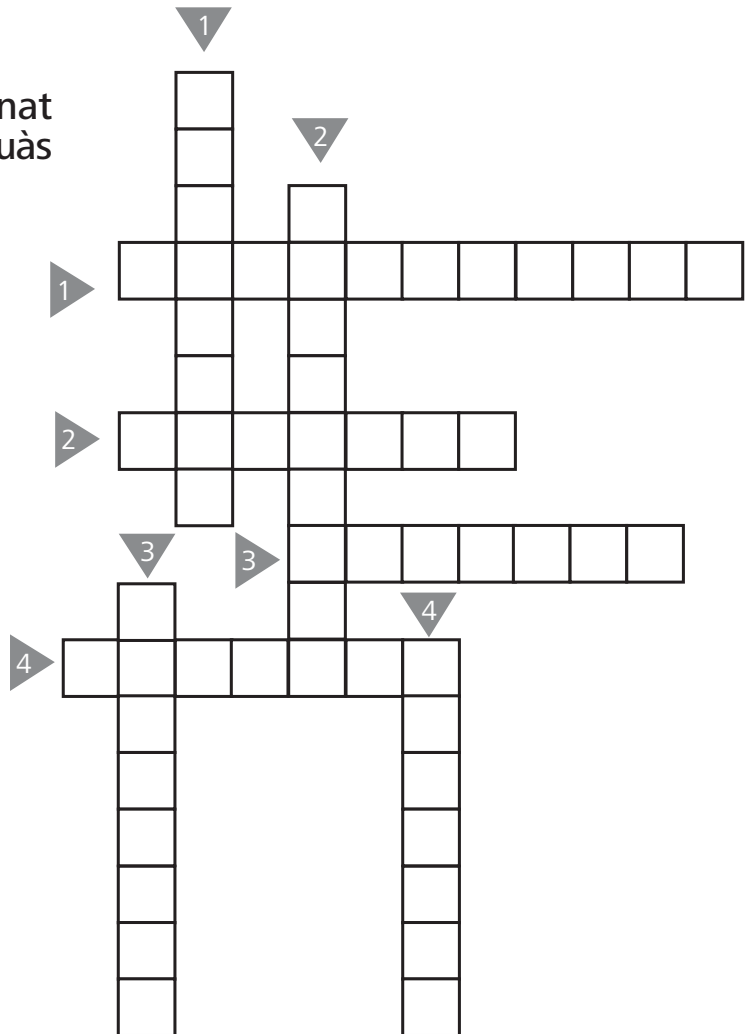
Resol aquest encreuat relacionat amb aspectes de la Vila d'Alaquàs

HORIZZONTAL

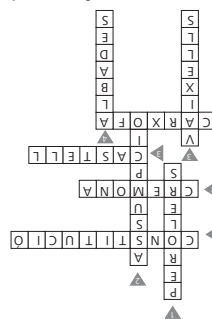
1. Plaça del poble que es veu per les finestres del Castell.
2. Poble italià agermanat amb Alaquàs.
3. Monument històric de la Vila d'Alaquàs.
4. Tramoia del teatre religiós medieval que s'utilitza en les festes d'Alaquàs.

VERTICAL

1. Ofici antic al qual es dedica un carrer d'Alaquàs.
2. Església que està al costat del Castell.
3. Quins dibuixos apareixen en les parets del castell?
4. Peces de música vocal o instrumental que s'interpreten a la nit o a la matinada.



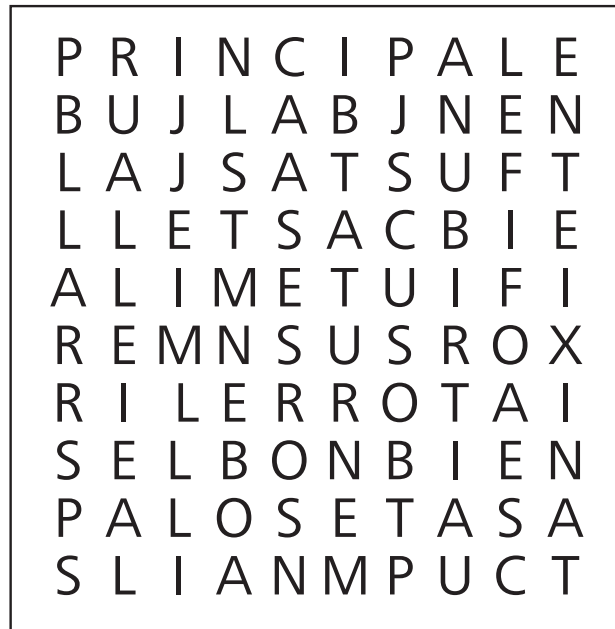
Vols que t'ajude?



Sopa de lletres

Busca aquestes paraules relacionades amb el Castell en la sopa de lletres:


PRINCIPAL
 TRIBUNA
 TORRE
 CASTELL
 NOBLES
 REI
 ENTEIXINAT
 ALJUB



Fes un esforç
 abans de mirar
 la solució.
 És molt fàcil!



SOLUCIÓ:



Avaluació de la visita

1. Quin edifici trobes més pròxim al Castell?
A. L'Ajuntament
B. L'església de l'Assumpció
C. La biblioteca.
2. Anomena les dependències que has visitat al Castell.

3. Per què li faltava una torre al Castell?
A. Perquè el vent la va enderrocar.
B. Perquè l'enderrocaren per a vendre la fusta.
C. Perquè està posada en una rotonda del poble.
4. De quin material està construït el sostre del Castell?

5. Per què les sales del Castell tenen diferent altura?
A. Perquè el rei era molt alt.
B. Perquè en aquella època no hi havia cinta mètrica.
C. Per a diferenciar la importància de les sales.
6. Cap a on mira la façana principal del Castell?
A. Cap a l'est, on està la ciutat de València.
B. Cap al sud perquè fa més calor.
C. Cap al nord perquè dona l'ombra.
7. D'on treien l'aigua els senyors del Castell.
A. De l'aixeta.
B. Del riu.
C. D'un pou.

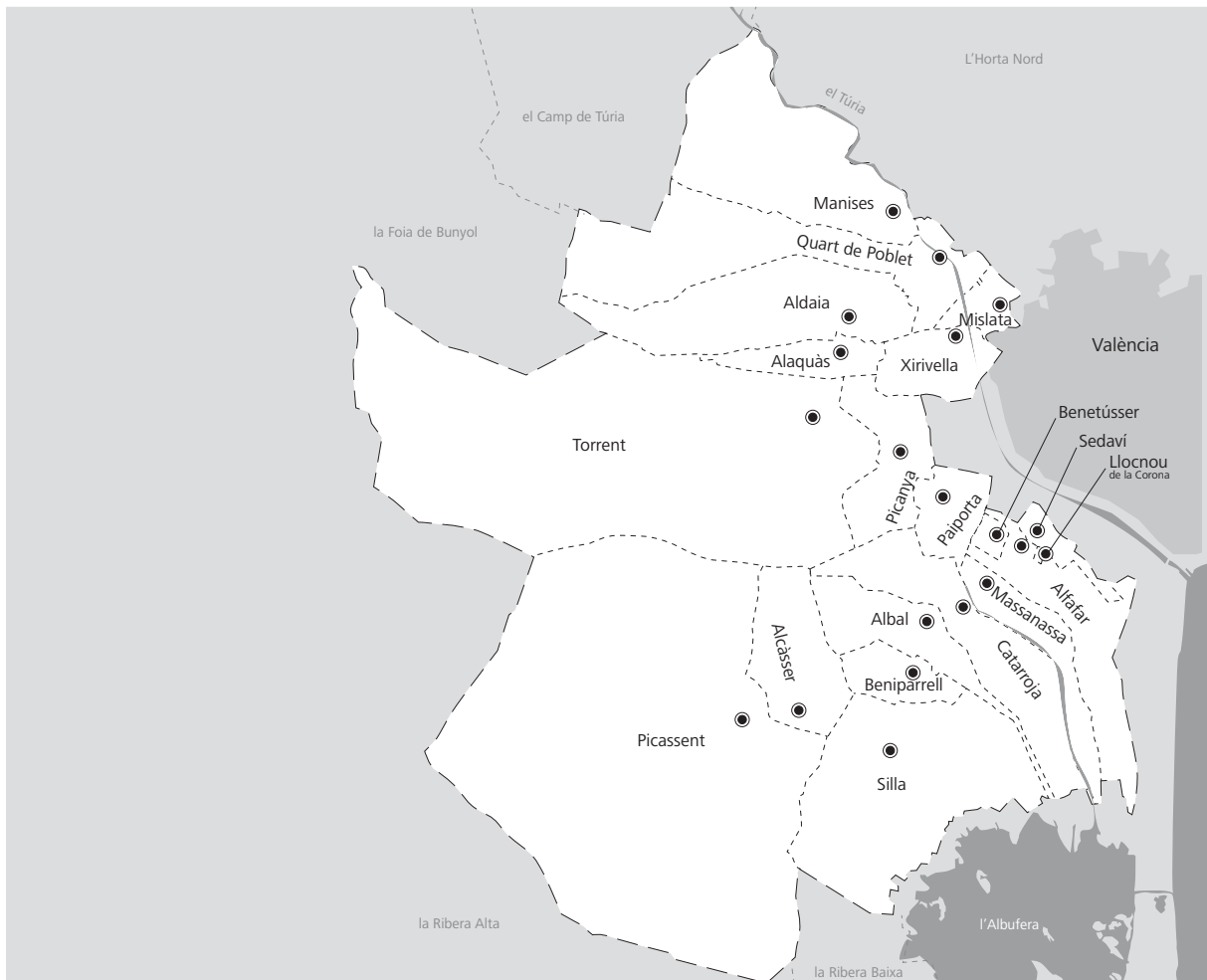
8. Què és el que més t'ha agradat de la visita? Per què?



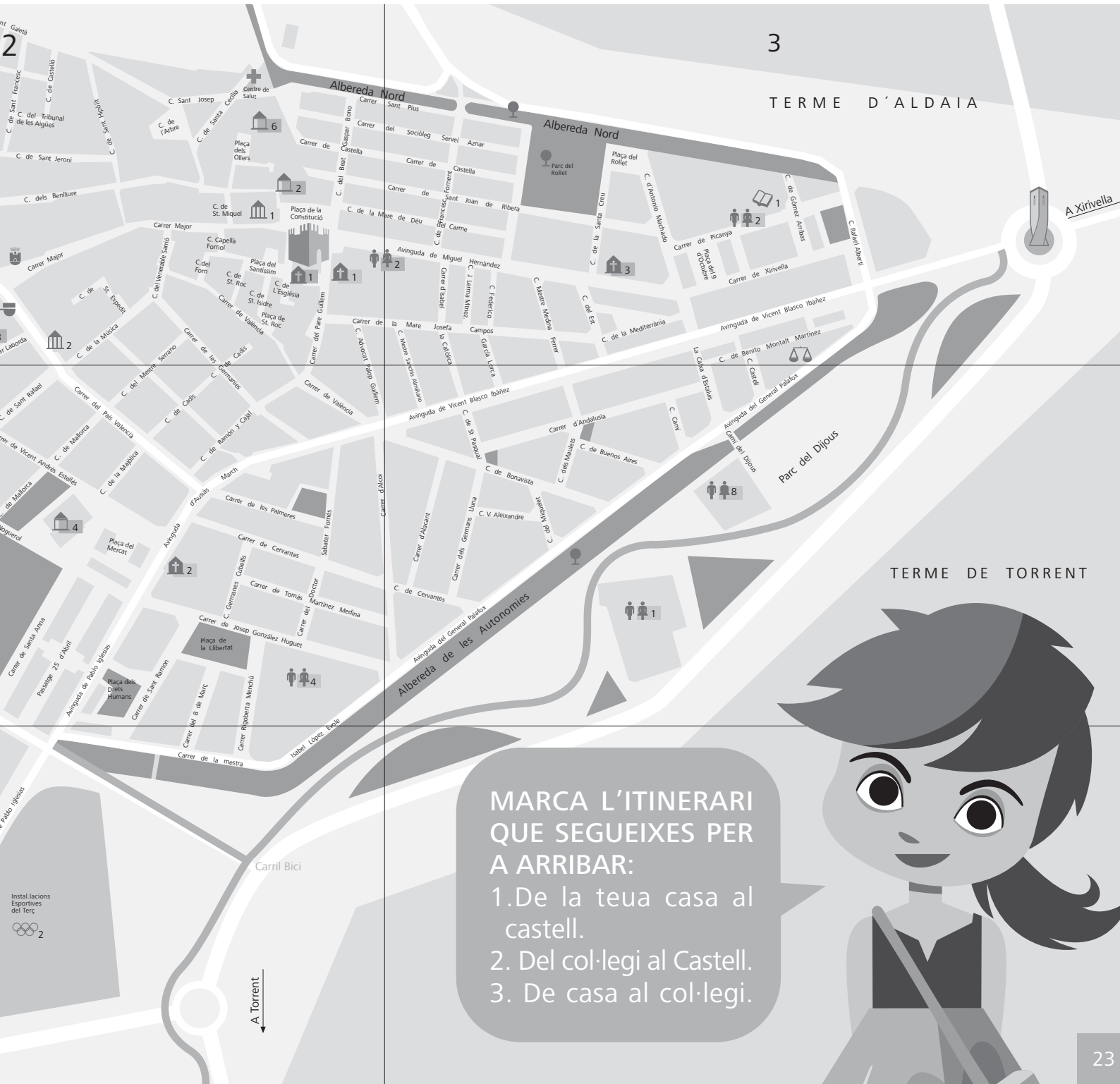
Fixa't en el mapa de l'Horta Sud

1. Pinta de color verd el terme d'Alaquàs i escriu el nom dels pobles que l'envolten i pinta'ls de groc.

2. Si els habitants del Castell volgueren anar a l'albufera, escriu els pobles per on haurien de passar.







TERME D'ALDAIA

TERME DE TORRENT

MARCA L'ITINERARI QUE SEGUEIXES PER A ARRIBAR:

- 1. De la teua casa al castell.
- 2. Del col·legi al Castell.
- 3. De casa al col·legi.



vocabulari

MERLET: Cadascún dels prismes d'obra que per a la defensa s'alçaven al cim d'un mur, d'una torre, deixant entre cada dos una obertura per on poder llançar projectils a l'enemic.

ENTEIXINAT: Entrecreuament de bigues i motlures en un sostre formant compartiments quadrats, poligonals...

CLAUSTRE: Passatge cobert, amb mur a una banda i un porticat o columnata a l'altra que envolta un pati.

ARCS PORTICATS: Arcs d'un porxe.

CELLER: Lloc on s'elabora i es guarda el vi.

ALMÀSSERA: Molí d'oli.

ESTABLE: Lloc cobert totalment o parcialment on s'allotja el bestiar i on es guarden carros i carrosses.

ENTRESÒL: Pis a un nivell poc alt en relació a la planta baixa, ordinàriament de sostre més baix i finestres més menudes que els altres pisos.

ARGAMASSA: Barreja de calç, sorra i aigua usada per ajuntar les pedres, rajoles... en les construccions.

RAJOLA: Bloc utilitzat en la construcció de poc gruix d'argila assecada i endurida al sol o al foc.

CALABÓS: Lloc segur, generalment lúgubre i, fins i tot, subterrani on es tanca a determinants presos.

TRINQUET: Pal del vaixell que es troba davant de la caravel·la.

TIMÓ: Part del vaixell que marca la direcció de la nau.

Xiquets i xiquetes,
espere que la visita
us haja agradat i
animeu als vostres
coneguts perquè
també vinguen a
visitar el Castell
d'Alaquàs.

Fins a un altre dia!

